

TEST A

Pitanje 1.

Ko su autori/autorke poznatih arhitektonskih zdanja na fotografijama ispod, redosljedom od A do D?



A



B



C



D

1. Norman Foster – Oskar Nimajer – Zaha Hadid – Ričard Mejer
2. Mies Van de Roe – Viktor Horta – Frenk Geri – Luis Kan
3. Robert Venturi – Frenk Geri – Norman Foster – Renco Piano
4. Frenk Lojd Rajt – Le Korbizje – Frenk Geri – Oskar Nimajer
5. Valter Gropijus – Kenzo Tange – Frenk Geri – Oskar Nimajer
6. Alvar Alto – Rem Kolhas – Karlo Skarpa – Aldo Rosi
7. Ričard Mejer – Ričard Rodžers – Jorn Utzon – Alvar Alto

Zaokružiti odgovor na posljednjem listu testa A.

Pitanje 2.***Erker je:***

1. vezivno sredstvo
2. istureni dio zgrade
3. dio drvene grede
4. vrsta kolača
5. šestougaoni predmet

Portal je:

1. sto od alabastera
2. posuda za ulje
3. detalj kapitela
4. naglašen ulaz
5. dekoracija iznad prozora

Zaokružiti odgovore na posljednjem listu testa A.

Tačan odgovor na oba pitanja donosi poene.

Pitanje 3.

Na fotografiji su prikazani:

1. balkoni
2. lođe
3. francuski balkoni
4. nijedan odgovor nije tačan



Zaokružiti odgovor na poslednjem listu testa A.

Pitanje 4.

Kako se zove građevina prikazana na fotografiji?



Odgovor: _____ **PANTEON** _____

Upisati odgovor na poslednjem listu testa A.

U kom vijeku je sagrađena građevina prikazana na fotografiji?

1. V vijek prije nove ere
2. IV vijek nove ere
- 3. II vijek nove ere**
4. nijedan odgovor nije tačan

Zaokružiti odgovor na poslednjem listu testa A.

Tačan odgovor na oba pitanja donosi poene.

Pitanje 5.

Na fotografiji je prikaz najstarijeg mosta u Crnoj Gori, sagrađenog u ilirsko-rimskom periodu, vrijedan kulturno-istorijski spomenik.



Na teritoriji koje opštine se ovaj most nalazi?

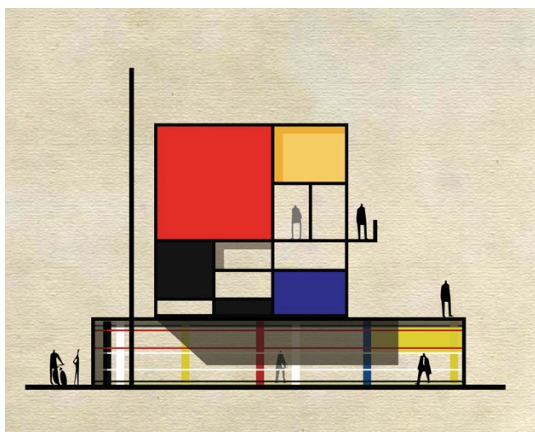



1. Podgorica
2. Bijelo Polje
3. Cetinje
4. Nikšić

Zaokružiti odgovor na poslednjem listu testa A.

Pitanje 6.

Ilustracije ispod, radovi italijanskog arhitekta i grafičkog dizajnera Federika Bombine, su arhitektonične predstave (autor ih naziva „archist“) poznatih likovnih umjetnika i njihovih djela.

Koje umjetnike one predstavljaju, redosljedom od A do D?

**A****B****C****D**

1. Pol Gogen – Salvador Dali – Pablo Pikaso – Roj Liktenstajn
2. Pit Mondrijan – Kazimir Maljević – Žorž Brak – Pablo Pikaso
3. Anri Matis – Đorđo de Kiriko – Žuan Miro – Vasil Kandinski
4. Pol Gogen – Vasil Kandinski – Žorž Brak – Žorž Sera
5. Van Gog – Pit Mondrijan – Salvador Dali – Anri Matis
6. Pit Mondrijan – Salvador Dali – Žuan Miro – Roj Liktenstajn
7. Van Gog – Vasil Kandinski – Žorž Brak – Marsel Dišan

Zaokružiti odgovor na poslednjem listu testa A.

Pitanje 7.

Slika ispod je djelo američkog umjetnika Džeksona Poloka (Jackson Pollock) nastala tehnikom koja se u likovnoj umjetnosti prepoznaje kao poseban umjetnički pravac:




1. Akciono slikarstvo

2. Kolaž
3. Konceptualizam
4. Performans
5. Poentilizam
6. Mozaik
7. Asamblaž

Zaokružiti odgovor na posljednjem listu testa A.

Pitanje 8.

Slika „Ranjeni Crnogorac“ djelo je jednog inostranog umjetnika koji je naslikao mnogo motiva iz života crnogoraca polovinom XIX vijeka. O kom umjetniku je riječ?



1. Rudolf Valdec
2. Jaroslav Čermak
3. Paja Jovanović
4. Vlaho Bukovac
5. Anastas Bocarić
6. Ilija Šobajić
7. Valtazar Bogišić

Zaokružiti odgovor na posljednjem listu testa A.

Pitanje 9.

Na slikama su radovi tri poznata umjetnika.



A



B



C

O kojim umjetnicima je riječ, redosljedom od A do C?

1. Johanes Vermer – Vasil Kandinski – Salvador Dali
2. Pol Sezan – Kazimir Maljević – Žorž Brak
3. Anri Matis – Đorđo de Kiriko – Vasil Kandinski
4. Pol Gogen – Vasil Kandinski – Žorž Brak
5. Pol Sezan – Mark Šagal – El Greko
6. Pol Gogen – Mondiljani – Pablo Pikaso
7. Van Gog – Vasil Kandinski – Žorž Brak

Zaokružiti odgovor na posljednjem listu testa A.

Pitanje 10.

Na ilustracijama ispod su simbolične siluete 4 evropska grada. O kojim gradovima je riječ?



1. Berlin – Frankfurt – Brisel – Prag
2. Venecija – Beč – Brisel – London
3. Bukurešt – Venecija – Milano – Varšava
4. Budimpešta – Firenca – Istanbul – Brisel
5. Minhen– Budimpešta – Sofija– Varšava
6. Beč – Firenca – Skoplje – Varšava

Zaokružiti odgovor na posljednjem listu testa A.

RJEŠENJA ZADATAKA

Odabir ponuđenih odgovora izvršiti **zaokruživanjem odgovarajućeg broja ili dopunom odgovarajućih riječi – HEMIJSKOM OLOVKOM.**

Važne napomene:

Odgovori na pitanja su **OBAVEZNI** i treba ih **zaokruživati pažljivo i KONAČNO.**

Jednom zaokružen odgovor više se ne smije korigovati (križati pa zaokruživati novi i sl.).

U takvim slučajevima smatraće se da je na pitanje odgovoreno NETAČNO!

Tekstualne djelove napisati **ČITKO – ŠTAMPANIM slovima.**

redni broj pitanja	moguća rješenja/popunjavanje							bodovi
PITANJE 1	1	2	3	4	5	6	7	0.5
PITANJE 2	1	2	3	4	5			0.5
	1	2	3	4	5			
PITANJE 3	1	2	3	4				0.5
PITANJE 4	PANTEON			1	2	3	4	0.5
PITANJE 5	1	2	3	4				0.5
PITANJE 6	1	2	3	4	5	6	7	0.5
PITANJE 7	1	2	3	4	5	6	7	0.5
PITANJE 8	1	2	3	4	5	6	7	0.5
PITANJE 9	1	2	3	4	5	6	7	0.5
PITANJE 10	1	2	3	4	5	6		0.5
UKUPNO BODOVA								